

**COLEGIO AGUSTINIANO "CRISTO REY"**  
**SANTA MÓNICA CARACAS**  
**NIVEL DE EDUCACIÓN PRIMARIA**  
**CRISTO REY EN CASA**  
**PRIMER GRADO**



Estimados Padres y Representantes: Reciban un fraterno saludo en Cristo. Esta semana elaboraremos un Germinador, reforzando nuestro Proyecto **“La Naturaleza, un Regalo de Dios”**, como el tema de las plantas, conociendo las partes que la conforman.

Paralelamente reforzaremos actividades de suma y resta.

Recuerda ejercitar la lectura a diario.

***“Cuando rezamos hablamos con Dios, pero cuando leemos es Dios quien habla con nosotros”. San Agustín.***

**LUNES 11 de mayo**

**CIENCIAS Y TECNOLOGÍA**

Luego de escribir el encabezado completo en tu cuaderno de Áreas, lee el siguiente texto y luego, cópialo en tu cuaderno de Áreas.

**Las Plantas**

Las plantas son seres vivos que nacen, crecen, se reproducen y mueren.

Las partes de las plantas son:

- Raíz
- Tallo
- Hoja
- Flor
- Fruto



## MATEMÁTICA

1. Ordena y resuelve las siguientes adiciones, escribe en letras el resultado.

a.  $345 + 145 =$

b.  $653 + 257 =$

c.  $823 + 729 =$

MARTES 12 de mayo

## CIENCIAS SOCIALES

Lee el siguiente texto, cópialo en tu cuaderno de Áreas.

### Nociones de Tiempo Pasado, Presente y Futuro

- El Pasado es lo que ya sucedió.
- El Presente es lo que está sucediendo y
- El Futuro es lo que va a suceder.


ACTIVIDAD: Copia una pequeña reseña de tu vida, siguiendo las nociones del tiempo.

### PASADO

Me llamo \_\_\_\_\_ nací en  
\_\_\_\_\_ el día \_\_\_\_\_.

Mis padres se llaman \_\_\_\_\_. Pesé \_\_\_\_\_ kilos y medí  
\_\_\_\_\_ centímetros. Mi familia me ama y está muy feliz con mi  
llegada.

Pega una foto de cuando eras bebé.



## **MATEMÁTICA**

1.- Ordena y resuelve las siguientes restas. Escribe el resultado en letras.

a.  $43-21 =$

b.  $53-32=$

c.  $86-24=$

## **MIÉRCOLES 13 de mayo**


### **CIENCIAS Y TECNOLOGÍA**

#### **PARTES DE LA PLANTA**

a.- La raíz es la parte de la planta que crece debajo de la tierra y sirve para fijar la planta a la tierra y absorber los nutrientes que se encuentran en la misma.

b.- El tallo es la parte que sostiene a las hojas, las flores y los frutos. Por medio del tallo, se transportan las sales minerales y el agua de la raíz a las hojas

**ACTIVIDAD:** Realiza un dibujo de la raíz y el tallo.



## MATEMÁTICA

1.- Resuelve los siguientes problemas de suma. Recuerda el trazado del cuadro y que la respuesta se realiza con oraciones completas.

a.- Juan tenía 265 carros y su amigo Carlos le regaló 567 más. ¿Cuántos carros en total tiene Juan?

DATOS	OPERACIÓN	RESPUESTA

b. Santiago le compró 357 chocolates a su mamá por el día de las madres y María le regaló 258 chocolates más. ¿Cuántos chocolates tiene ahora la mamá de Santiago?

DATOS	OPERACIÓN	RESPUESTA

**JUEVES 14 de mayo**

**CIENCIAS SOCIALES**


**PRESENTE**

1.- Copia en tu cuaderno el siguiente párrafo adaptándolo a tu realidad.

Yo me llamo \_\_\_\_\_ estudio en el Colegio \_\_\_\_\_ en el \_\_\_\_grado. Tengo \_\_\_\_ años de edad. Sé escribir, colorear, leer, \_\_\_\_\_ porque soy un alumno grande.

En el recreo, yo \_\_\_\_\_ con mis amigos. Y en el salón de clase copio todos mis temas de \_\_\_\_\_ y \_\_\_\_\_.

Pega una foto o realiza un dibujo de ti en el presente.




## **FUTURO**

2.-Describe cómo te ves en el futuro según la profesión que quieras estudiar.

Quando sea grande, quiero \_\_\_\_\_ en la universidad la carrera de \_\_\_\_\_, para trabajar en \_\_\_\_\_. También me gustaría casarme y formar una familia.

Realiza un dibujo o pega un recorte de cómo te ves en el futuro.



**VIERNES 15 de mayo**

**CIENCIAS Y TECNOLOGÍA**


1.- Copia en tu cuaderno de Áreas la continuación de las partes de una planta.

c.- La hoja es la parte por donde respira la planta y aquí se elabora el alimento de ella.

d.- La flor es la encargada de producir la semilla que permite la reproducción de la planta, las flores son la parte más vistosa, no todas las plantas producen flores ni frutos. Es la parte que embellece la planta.

e.- El fruto es el que protege a la semilla, almacena los nutrientes, y nos sirve de alimento.

Realiza un dibujo sobre el tema.



**Actividad Práctica:** Observa y lee el siguiente texto explicativo, y luego realiza la actividad que se te indica posteriormente:



# Pasos para realizar un germinador casero



De 3 a 5 caraotas



Un frasco de vidrio pequeño



Algodón



Papel Periódico

1

Remojar en agua las caraotas toda la noche.



Rellenar el frasco con el algodón y el papel periódico.

2

3

Colocar las caraotas remojadas entre el papel periódico y el vidrio, esparciéndolas de manera uniforme y manteniéndolas cerca del borde superior del frasco.



Poner el germinador en un lugar donde reciba el sol de la mañana.

4

5

Mantener húmedo el algodón pero no en exceso, ya que se pueden echar a perder las semillas.



Rotar el germinador unos días para que le dé el sol a todas la semillas.

6

7

En pocos días, las raíces crecerán de uno de los extremos de cada semilla y un tallo nacerá del otro extremo. Las semillas germinan y tendrán pequeñas hojas verdes.



Con apoyo de Mamá o Papá, elabora un Germinador, puedes utilizar semillas de caraotas, alpiste, lentejas, entre otras. Cuídalo todos los días, y escribe lo que sucede. Elabora un registro diario de los cambios que observas en tu Germinador.

<b>Día</b>	<b>¿Qué observo?</b>